





Nombre: _____

Fecha de evaluación escrita: Lunes 4 de diciembre

1. Circula los personajes de cuentos fantásticos



2. Une cada personaje con la acción o verbo que corresponde::

	<ul style="list-style-type: none"> • cocinar • cocina
	<ul style="list-style-type: none"> • rugidos • rugir
	<ul style="list-style-type: none"> • lágrimas • llorar
	<ul style="list-style-type: none"> • hada • hechizar

3. Escribe el **diminutivo** de cada sustantivo.

perro _____.

casa _____.

lobo _____.

árbol _____.

4. Escribe el **aumentativo** de cada sustantivo.

silla _____.

orejas _____.

cabeza _____.

mano _____.

4. Completa las oraciones con las acciones que faltan.

Ayudamos juegan comparte cocina leemos corro

- ❖ Los niños _____ muchos cuentos.
- ❖ Las mascotas _____ con pelotas.
- ❖ Yo _____ en el recreo.
- ❖ María _____ galletas.
- ❖ Mi hermana y yo _____ a limpiar.
- ❖ Mi papá _____ una sopa deliciosa

5. – Escribe el “sobrenombre”, con el que se conoce a cada personaje:

A Roberto Gómez Bolaños en honor a Shakespeare lo llamaron: _____

Michael Jackson es conocido por su música, como: _____

El futbolista Leo Messi, por su tamaño le nombran: _____

5- Lee el cuento y encierra sus partes con el siguiente código de color.

Amarillo: Inicio Verde: Desarrollo Naranja: Final

6. Relaciona con líneas de colores, cada momento del cuento "CAPERUCITA ROJA"

PRINCIPIO

- Rescataron a la abuelita y Caperucita pudo abrazarla feliz.

MEDIO

- Una mañana, Caperucita salió al bosque para visitar a su abuelita.


FIN O DESENLACE

- El lobo encerró a la abuelita y él se disfrazó para engañar a Caperucita.

Nombre: _____

Fecha de evaluación escrita: Martes 5 de diciembre

1. Observa la imagen, escribe los números ordinales en las loncheras y haz lo que se te pide.



- Colorea de azul el quinto osito.
- Colorea de rojo el sexto osito.
- Colorea de amarillo el oso que está en séptimo lugar.

2. Completa la información.

¿En qué lugar está la última osa de la fila? _____.

¿En qué lugar está el oso que tiene la estrella? _____.

¿En qué lugar está el oso con la playera negra? _____.

3. Cuenta el dinero y escribe el total.



Total: _____ pesos



Total: _____ pesos




Total: _____ pesos



Total: _____ pesos

4. Si quieres comprar el tren y pagas con un billete de 50 pesos,
 ¿Cuánto dinero recibirás de cambio? _____



5. Representa con billetes y monedas, \$ 25 de dos maneras diferentes

--	--

6. Circula la cantidad correcta.

- Tres decenas y siete unidades: 23 37 73
- Cuatro decenas y nueve unidades: 54 49 410
- Dos decenas y ocho unidades: 214 28 281
- Cinco centenas, seis decenas y 2 unidades: 262 162 562

7. Resuelve las sumas y restas:

$\begin{array}{r} 63 \\ + 22 \\ \hline \end{array}$	$\begin{array}{r} 63 \\ + 21 \\ \hline \end{array}$	$\begin{array}{r} 24 \\ + 63 \\ \hline \end{array}$	$\begin{array}{r} 34 \\ + 34 \\ \hline \end{array}$	$\begin{array}{r} 27 \\ + 71 \\ \hline \end{array}$
---	---	---	---	---

$\begin{array}{r} 3 \\ + 6 \\ \hline \end{array}$	$\begin{array}{r} 4 \\ + 4 \\ \hline \end{array}$	$\begin{array}{r} 6 \\ + 7 \\ \hline \end{array}$	$\begin{array}{r} 23 \\ + 1 \\ \hline \end{array}$	$\begin{array}{r} 6 \\ + 3 \\ \hline \end{array}$
---	---	---	--	---

$\begin{array}{r} 12 \\ - 4 \\ \hline \end{array}$	$\begin{array}{r} 9 \\ - 2 \\ \hline \end{array}$	$\begin{array}{r} 6 \\ - 3 \\ \hline \end{array}$	$\begin{array}{r} 12 \\ - 6 \\ \hline \end{array}$	$\begin{array}{r} 41 \\ - 30 \\ \hline \end{array}$	$\begin{array}{r} 86 \\ - 63 \\ \hline \end{array}$	$\begin{array}{r} 68 \\ - 52 \\ \hline \end{array}$
--	---	---	--	---	---	---